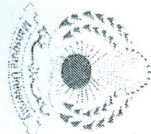
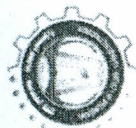


المقرر: تصميم عمراني وإسكان ٢

الكويد: ARC ٧٤٢١

الزمن: ٤ ساعات

التاريخ: ٢٠١٣/٦/٢



إمتحان الفصل الدراسي الثاني

٢٠١٣/٢٠١٢

جامعة المنصورة
كلية الهندسة
قسم الهندسة المعمارية
الفرقة الرابعة
نظام حديث

الامتحان مكون من صفتين

مجموع الدرجات (٩٠ درجة)

أجب عن الأسئلة التالية:

(٥٠ درجة)

السؤال الأول:

تتمثل عناصر التشكيل البصري للمدينة في العناصر الأكثر إدراكاً والأكثر تأثيراً في الصورة الذهنية للمدينة عند ساكنيها .

١. ناقش باختصار عناصر التشكيل البصري المختلفة للمدينة والمكونة للصورة الذهنية
٢. حلل من وجه نظرك عوامل تحقيق التميز العمراني لهذه العناصر
٣. من خلال الواقع العمراني اختار مثالاً لأحد عناصر التشكيل البصري وناقش ما يلي:
أولاً: تحليل الحالة الراهنة للعنصر (السلبيات والإيجابيات)
ثانياً: المشكلات العمرانية التي تؤثر سلبياً علي إدراكه
ثالثاً: التصورات الممكنة للتطوير العمراني لهذا العنصر

(٤٠ درجة)

السؤال الثاني:

يتميز الحرم الجامعي لجامعة المنصورة بفراغات عمرانية ومساحات خضراء تحقق كفاءة بيئية، واستكمالاً لهذا التمييز ترغب الجامعة في إعادة تخطيط الفراغ الرئيسي للمدخل الشمالي الموضح بالشكل (انظر صفحة رقم ٢) وذلك باستخدام عناصر تنسيق الموقع المختلفة والمنشآت الخفيفة فقط بحيث يوفر العناصر الأتية:

- عدد ٥٠ كشك خفيف للخدمات الطلائية كل منها بمساحة ١٠ م^٢
- عدد ١٠ برجولات للجلوس وكافتريات كل منها بمساحة ٥٠ م^٢

والمطلوب:

١. مخطط أفقي عام بمقياس رسم ٢٠٠٠/١
٢. قطاعات رأسية مختلفة
٣. منظور عام

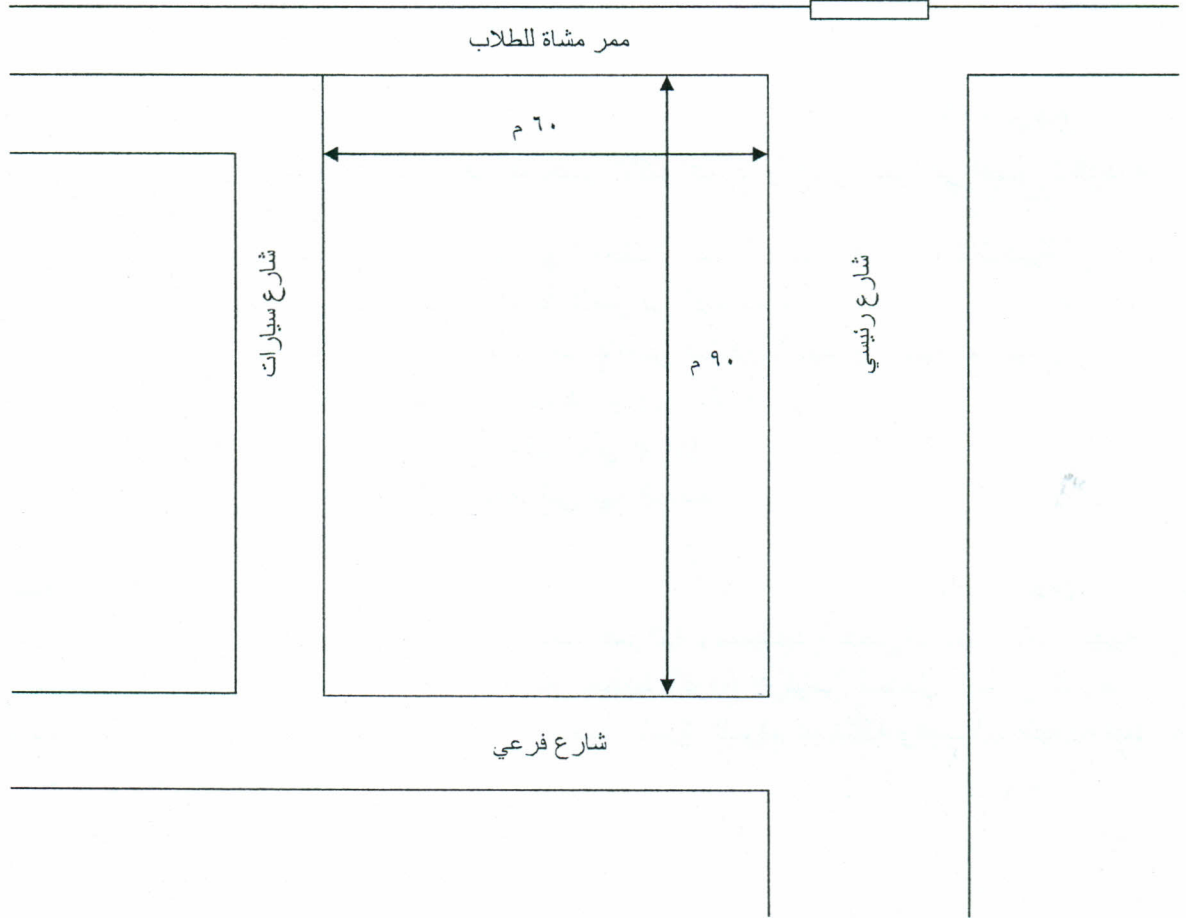
* ملاحظات عامة: على الطالب الاستعانة بالرسومات التوضيحية والاستكشافات لإظهار الإجابة



الشمال

المدخل الرئيسي

بوابة الجامعة



انتهت الاسئلة

مع التمنيات بالتوفيق
أ.د/ علاء شمس الدين العيشي
د/ إبراهيم رزق حجازي